



## 4.2 La dependència econòmica

### 4.2.1 L'estrangulament extern

Els països de Centre i Sud-Amèrica van obtenir al llarg del segle XIX la independència política respecte a les antigues metròpolis europees, però continuen essent dependents d'elles a nivell econòmic.

Les causes d'aquesta dependència són diverses:

- manca de poder polític d'aquests països a nivell internacional,
- economies nacionals basades en la producció i exportació d'alguns productes bàsics i primeres matèries, com a herència de l'economia colonial,
- absència d'indústries de transformació,
- cap participació en les xarxes de transport internacional i en els sistemes mundials de distribució i comercialització de productes,
- acords comercials i financers internacionals desfavorables,
- corrupció o ineficàcia dels seus sistemes de govern.

La influència de les multinacionals en aquests països és evident: modifiquen els hàbits alimentaris i culturals, promovent els conreus industrials (cotó, cautxú) i la producció d'aliments de luxe (cafè, cacau) destinats als països rics, sovint en detriment de la producció alimentària bàsica interior.

A les multinacionals agro-alimentàries no els interessen els cultius d'autosubsistència, venuts al mercat local, i han obtingut, gràcies a la modernització, un augment de la producció comercialitzable a gran escala. Avui les multinacionals controlen el 85% del cacau i del te mundials; el 60% del sucre; entre el 85 i el 90% del tabac, el cafè, el cotó i el jute; el 90% dels productes forestals.

*El café beneficia mucho más a quienes lo consumen que a quienes lo producen. En Estados Unidos y en Europa genera ingresos y empleos y moviliza grandes capitales; en América Latina paga salarios de hambre y acentúa la deformación económica de los países puestos a su servicio (...)*

*A raíz de la crisis de 1929, que echó abajo los precios y contrajo el consumo, Brasil quemó 78 millones de bolsas de café: así ardió en llamas el esfuerzo de doscientas mil personas durante cinco zafras. Aquella fue una típica crisis de una economía colonial: vino de fuera.*

*Pero el auge de los precios no tiene mejores consecuencias. Desencadena grandes siembras, un crecimiento de la producción, una multiplicación del área destinada al cultivo del producto afortunado. El estímulo funciona como un boomerang, porque la abundancia del producto derriba los precios y provoca el desastre.*

*De la plantación colonial, subordinada a las necesidades extranjeras y financiada, en muchos casos, desde el extranjero, proviene en línea recta el latifundio de nuestros días. Este es uno de los cuellos de botella que estrangulan el desarrollo económico de América Latina y uno de los factores primordiales de la marginación y la pobreza de las masas latinoamericanas.*

*(Las venas abiertas de América Latina, Galeano)*



*La dependencia crea un círculo vicioso. El control de la tierra (ya en manos de una minoría en casi todos los países del Sur) queda cada vez más concentrado, conforme se incrementa la producción de cosechas para la exportación a gran escala. Enfrentada también con la necesidad de importar alimentos de consumo más baratos, la producción nacional se estanca. Cada vez son más los campesinos que no pueden ya vivir en el campo y abandonan la tierra para engrosar las filas de los pobres urbanos. La caída que a continuación viene en la producción de alimentos, combinada con una creciente demanda desde las ciudades, es la coartada de los gobiernos para justificar mayores importaciones... y mayor Deuda. Por el "privilegio" de mantener a flote el sistema Occidental de vida, ya moralmente ~~abundante~~ ~~de~~ ~~tercer~~ ~~Mundo~~, en 1983, ha tenido que devolver a los países ricos más de lo que recibió como préstamo y subvenciones juntos.*

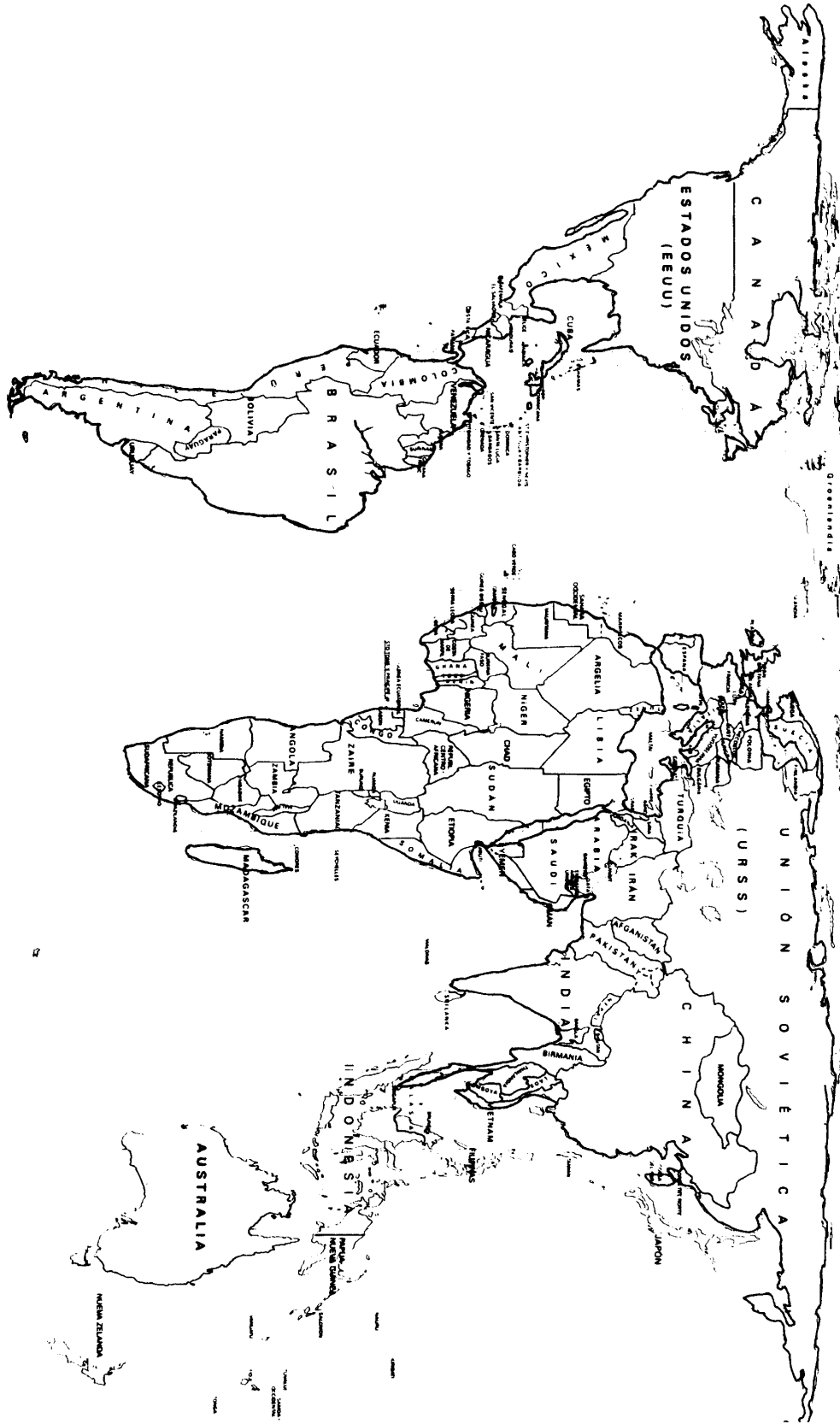
(Manifiesto contra el hambre en el mundo, ~~1983~~)

*Las naciones más pobres de América Latina o Asia proporcionan en la actualidad el 20% de las importaciones de carne de los Estados Unidos y más del 70% de todos los productos vegetales importados. Los verdaderos productores de alimentos —las abrumadoras mayorías rurales del Tercer Mundo— están siendo progresivamente impedidos del control de los que producirán y de las cosechas resultantes. Las imitaciones del modelo occidental de alta tecnología y la continua subordinación a las necesidades de sistemas alimentarios externos no son fenómenos que consigan eliminar el hambre... sólo lo harán aumentar. Las preguntas relevantes en la "problemática del hambre" serían entonces: "¿Quién controla los excedentes?" "¿Quién tiene el poder para definir qué constituye el 'excedente' obtenido a costa de los hambrientos y desnutridos?"*

(Enferma anda la tierra, George)

## ACTIVITATS :

1. Utilitzant una enciclopèdia per obtenir la informació necessària, assenyala al mapa amb color verd els països de Centre i Sud-Amèrica productors de primeres matèries i amb vermell els països consumidors d'arreu del món; podeu utilitzar una matèria primera en concret, per exemple el cafè, el sucre o el cacau.
2. Quins canvis creus que s'han produït en les condicions econòmiques i socials dels països centre i sud-americans després de la independència de les metròpolis europees?
3. Després de llegir el text que parla dels monocultius, quines implicacions creus que té dedicar tanta superfície, tant de treball i tants esforços a la producció d'un sol producte?
4. Senyala al mapa amb color verd els països amb deute extern, utilitzant la informació que tens al full 4 del còmic sobre el deute extern. Hi ha alguna correspondència entre els països amb deute extern elevat i els productors i exportadors de matèries primeres? Com expliques, en cas que hi sigui, aquesta correspondència?





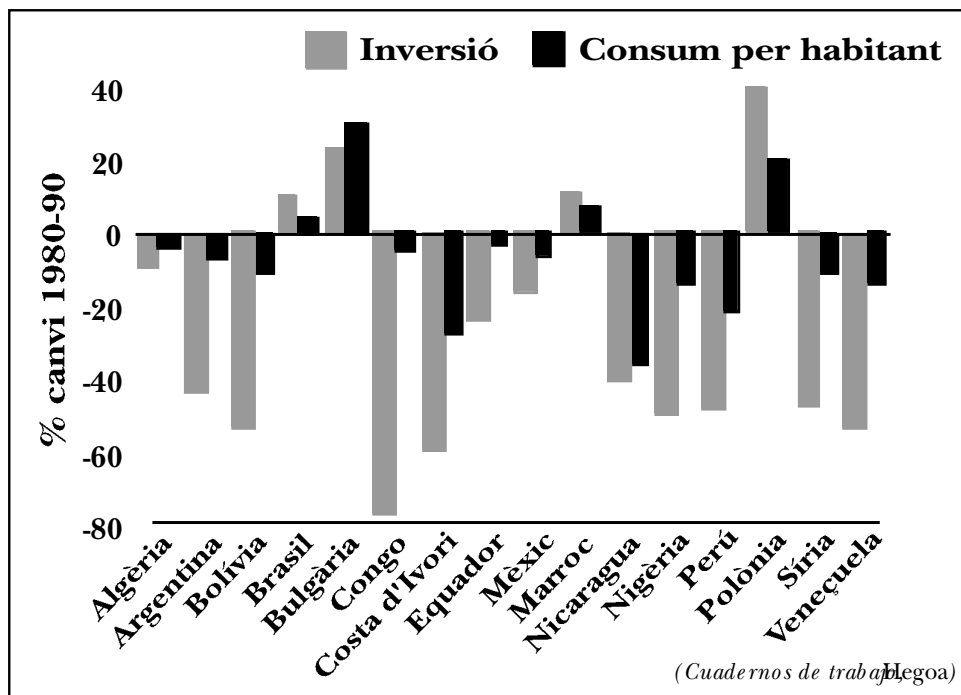
## 4.2.2 El deute extern

### La dramàtica reducció de les importacions

IMPORTACIONS (Milers de milions de \$ USA)						
	1981	1982	1983	1984	1985	85/81 (%)
Brasil	22,1	19,4	15,4	3,9	12,8	42,1
Mèxic	24,0	14,5	8,5	11,3	11,3	43,7
Argentina	8,4	4,8	4,1	4,1	3,7	43,7
Veneçuela	12,1	1,0	13,2	7,9	6,6	45,4
Perú	3,8	3,8	2,7	2,1	1,8	52,1
Colòmbia	4,8	5,4	4,5	4,0	4,0	16,7
Bolívia	0,7	0,4	0,5	0,4	0,4	36,8
Uruguai	1,6	1,0	0,7	0,7	0,7	46,3
Xile	6,5	3,6	2,8	3,3	2,9	55,4
Costa Rica	1,0	0,9	0,9	1,0	1,1	9,0
<b>Amèrica Llatina</b>	<b>97,6</b>	<b>78,3</b>	<b>56,0</b>	<b>58,8</b>	<b>57,6</b>	<b>41,0</b>

(Font: CEPAL y BID, informes anuals).

### El deute ha reduït el consum i la inversió





A llarg termini només hi ha una manera de pagar un deute: produir un excedent (en divises) per finançar la transferència de recursos. Hi ha hagut, per això, una forta pressió sobre els deutors per exportar més i importar menys.

En definitiva, s'imposa un mètode per produir l'excedent desitjat: reduir els ingressos del país per tal que les exportacions siguin més competitives (o sigui, que els sous siguin més baixos) i que hi hagi menys demanda per a les importacions.

Aquesta és la base dels centenars de programes d'ajustament que els acreedors han intentat imposar com a condició per a la renegociació del deute.

Els anys 80, en part per culpa de la crisi del deute i als programes d'ajustament, han estat per Amèrica Llatina i Àfrica anys de profunda crisi econòmica. En molts països han caigut els ingressos nacionals, el consum i la inversió (com es veu en el gràfic anterior), reduint el nivell de vida avui i alhora la possibilitat de millorar-lo demà. El resultat no és ni un ajustament, ni una estabilització, ni molt menys un desenvolupament, sinó un empobriment generalitzat.

## ACTIVITATS 8

1. De 1973 a 1985 les entrades de diners al Brasil per crèdits i ajuts van ser de:

..... 121.329 milions \$ USA

i les sortides van ser de:

-per amortització del deute.....64.945 milions \$ USA

-per interessos .....80.433 milions \$ USA

- Calcula el saldo .....
- Aquest saldo implica diners que van sortir o que van entrar al Brasil?
- Per tant, què sembla més lògic: que el deute extern hagi augmentat o que hagi disminuït?

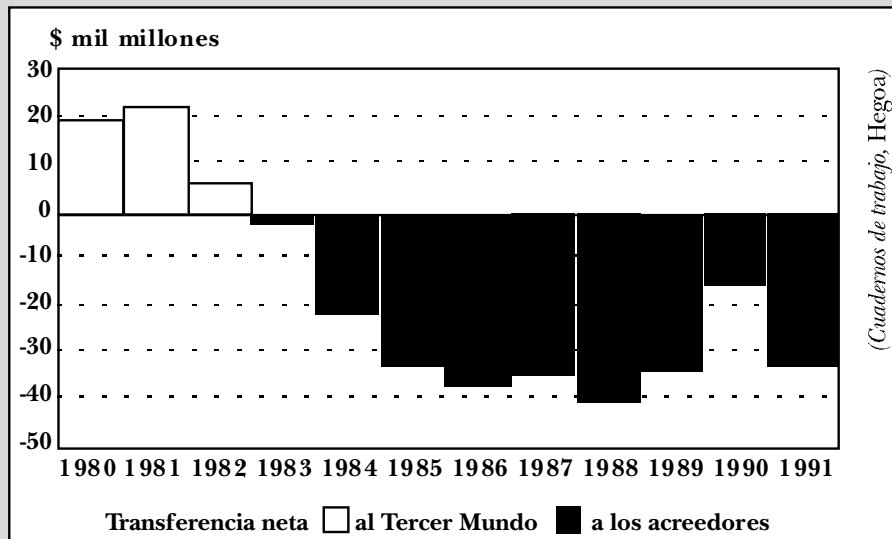
2. El deute extern que al 1973 era de 9.500 milions \$ USA al Brasil, al 1985 era de 95.800 milions \$ USA. D'aquestes dades es dedueix que el mecanisme del deute i les seves renegociacions fan que com més es paga, més creixi el deute:

Pagament d'interessos (milers de milions de \$ USA)		Deute extern	
1981 .....	26,7	1981 .....	277,7
1982 .....	35,0	1982 .....	318,4
1983 .....	31,4	1983 .....	344,0
1984 .....	34,8	1984 .....	360,4
1985 .....	33,1	1985 .....	368,0



- Fes un gràfic de línies amb les dades dels interessos i del deute extern, i pensa si la situació del Brasil es reproduïx a tota Amèrica Llatina. Quins paral·lelismes hi veus?

3. Analitza el que veus en aquest gràfic, i explica quines conseqüències té això per al Tercer Món.



4. Per tal d'afavorir les exportacions, que permetrien de recaptar divises per pagar el deute, l'Estat subvenciona les exportacions. Com que no es pot gravar els empresaris exportadors, la recaptació de capitals per a les subvencions es fa cobrant impostos al conjunt de la població. Això és insuficient, i per això –seguint consells del Banc Mundial i del Fons Monetari Internacional– es retallen les altres partides dels pressupostos de l'Estat, especialment les socials. Però si ni així es pot pagar el deute, què poden fer els governs endeutats?

Busca la resposta en els textos següents:

*Argentina es el país que más ha avanzado en el proceso de privatización. En el caso de la empresa de telecomunicaciones Entel, los oferentes no podían ofrecer más que una limitada cantidad de dinero; el resto del precio había que pagarlo con deuda externa argentina adquirida en el mercado secundario. El resultado final, una reducción de 5.200 millones de \$ de los 60.000 millones de deuda externa, y una compañía controlada por un Estado extranjero (España; Telefónica) con el control de las comunicaciones telefónicas de Argentina.*

*Por su parte, la principal empresa aérea, Aerolíneas Argentinas, fue adquirida por una empresa pública extranjera (Iberia) por un valor contable de 2.350 millones de dólares, pero a un precio efectivo de 683 millones, pues se pagarían 260 millones en cash y 2.160 millones en deuda externa. El precio fue aún más reducido. Como resultado: las comunicaciones telefónicas y aéreas en manos del Estado Español, a cambio de una reducción de poco más del 12% de la deuda externa.*

(Documento anexo: Foro alternativo por la Paz, 1992-1993)



(...) las previsiones de la Administración sobre la economía mexicana en 1995 se han ido a pique. El 4% de crecimiento del PIB se ha convertido en un 1,5%. El 4% de inflación se ha transformado en un 19% (...). El gasto público se reducirá en una cantidad equivalente al 1,3% del PIB, y los tipos de interés se han duplicado y se sitúan en el momento por encima del 30%. “Las nuevas previsiones pueden cumplirse siempre que se cumplan las condiciones del pacto que sindicatos y empresarios firmaron para apoyar el plan de emergencia del gobierno”, asegura un analista financiero.

Un pacto que afectará principalmente a las clases menos favorecidas. Obreros y campesinos se mostraron reacios a la firma de un acuerdo que supone un aumento de salarios del 7% para 1995 (12 puntos por debajo del alza de precios prevista). Los continuos aplazamientos del anuncio de las nuevas medidas el pasado martes indicaban la resistencia del casi centenario líder obrero Fidel Velázquez a suscribir un pacto del que pueden surgir otras consecuencias de indudable impacto en México.

Y ello porque el plan de emergencia prevé la privatización de algunas empresas públicas en los sectores de puertos, aeropuertos y ferrocarriles. Pero los rumores sobre la venta a inversores privados de algunas partes de Petróleos mexicanos (Pemex) no cesan. La industria petrolera está en manos del Estado desde 1938, y su privatización supondría un auténtico “rumor” para un país celoso de su soberanía petrolera. Los inversores estadounidenses no se recatan en demandar la venta de Pemex. “Si Zedillo hubiera mencionado la posibilidad de privatizar el petróleo, habría enviado una fuerte señal a Wall Street”, dijo el miércoles Bernard Aronson, ex subsecretario del asesor actualmente de Goldman Sachs. “Pero la Administración mexicana continuará vendiendo partes de Pemex, aunque, como es obvio, sin decir que lo están haciendo”, concluyó Aronson. Adrián Lajous, recientemente nombrado director general de Pemex, lanzó un mensaje, tal vez a modo de aviso, que no pasó inadvertido en la prensa mexicana: “Hay que modernizar la ideología del nacionalismo petrolero”.

(El fin del sueño mexicano, El País 9/01/1995)

- Un cop hagi esbrinat què fan els països de Centre i Sud-Amèrica per pagar el deute extern, creus que aquesta és una bona solució? Per què?

### 4.2.3 Ha augmentat la pobresa

#### ¿Cómo hacer para sobrevivir con un salario mínimo?

Duro es el típico brasileño pobre y tiene cuarenta años. Probablemente le queden otros ocho años de vida, o tal vez solamente dos si vive en el nordeste. Es posible que muera de neumonía, sin médicos ni medicinas, y también sin tumba. Si tiene hijos crecerán y serán obreros como él, semianalfabetos, anémicos y con la vista defectuosa. Tal vez ni siquiera lleguen a vivir tanto tiempo como su padre. Tendrán que viajar varias horas por día para ir a su trabajo –si encuentran trabajo–. Si no encuentran empleo, terminarán siendo pordioseros o ladrones. Su hija se casará con un obrero o con alguien metido en algún negocio ilegal. Aun que joven, ella parecerá vieja. Tendrá hijos flacos y mal alimentados, a los que tratará de criar trabajando como lavandera. Si tiene suerte, entrará a trabajar de sirvienta en una casa de clase alta o media. Sin embargo, no dispondrá de guarderías donde dejar a sus hijos. Estos se tendrán que quedar solos en casa, con



---

un poco de comida fría en la mesa. Encontrarán algún modo de escaparse aunquidaspuerta con llave, y se irán a vagar por las calles y los campos sin que nadie los vigile. En la gran ciudad, muy pronto se pueden convertir en rateros o carteristas, arriesgando su vida por unos pocos centavos.

A Durval podemos encontrarlo en cualquier tren de la periferia. Este puede ser su primer día de trabajo en una fábrica de muebles o el último en una planta metalúrgica. Son las cinco de la mañana y todavía que da una hora de tren. Si llega cinco minutos tarde, no sólo perderá la paga del día, sino además la del domingo. Como es analfabeto, no puede darse cuenta de que en el diario que está leyendo su compañero de viaje anuncian un ajuste del salario mínimo.

En definitiva, poco importa que sepa cuánto aumenta el salario mínimo, porque el resultado es el mismo: seguirá siendo insuficiente para mantener a sus cinco hijos. Lo que sí sabe es que el alquiler de su tugurio aumentará, lo mismo que la carne y la leche (que ya hace algún tiempo que no compra), y que el dinero no le alcanzará para pagar la atrasada cuenta de la electricidad. Tampoco le dará para pagar la cuenta del almacén, por lo que su esposa e hijos tendrán que revolver basura en busca de algún resto de comida.

Subsistir gracias a la búsqueda en los bidones de basura no es el único recurso posible para una familia cuyos ingresos se limitan al salario mínimo. Un día señalado en sus vidas es el día del mercado-al aire libre. Lo que recogen al final de él estos obreros es lo más selecto en materia de desechos orgánicos. Todo está casi fresco y no ha pasado por los camiones recolectores ni ha estado días y días expuesto al sol y a la lluvia. Los vendedores tiran fruta aplastada, trozos de carne y verdura marchita. Es una fiesta. Uno puede probar de todo: naranjas que han perdido la vitamina C tras haber permanecido cortadas desde las siete de la mañana para servir de muestra, piel reseca de gallina contaminada por las moscas, hojas amarillentas de repollo, etc. A pesar de todo, el día del mercado es un día de fiesta celebrado en millones de hogares brasileños diseminados en las grandes ciudades.

Después de trabajar, Durval regresa a su casa tan cansado que no tiene fuerzas ni para ir a buscar el agua necesaria para lavarse con una esponja. Toma un poco de café recalentado y come algunos trozos de pan duro. Su hija mayor regresa de la calle. Se ha pasado todo el día buscando trabajo y no ha encontrado nada. Con dieciséis años, apenas ha completado un año en la escuela pública y casi no sabe leer ni escribir su nombre. Pesa cinco kilos menos de los que debiera y sus piernas son flacas y arqueadas. Sus dientes, muy defectuosos, no le durarán mucho tiempo. Durval tiene miedo de que tenga que vender su cuerpo, como tantas otras muchachas de padres pobres.

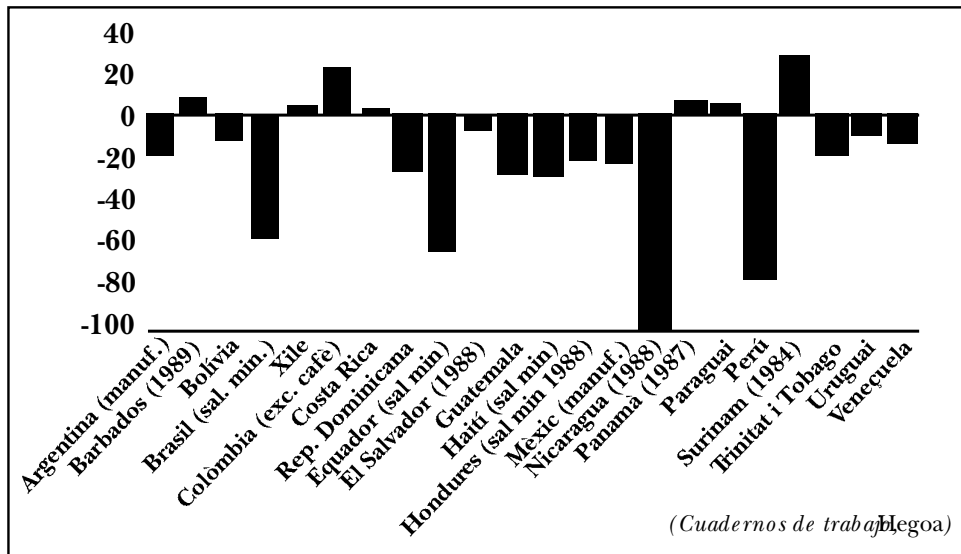
Harapientos, sucios y con olor a sudor, uno a uno, sus tres hijos menores regresan al hogar. Es el final de una jornada empleada en caminar por las calles, golpeando las puertas de las casas para mendigar comida, dinero o ropa, y juntarse con otros niños para vender golosinas en los semáforos a los automovilistas frenados por la luz roja, en revolver en los bidones de basura y algunas veces en hacerse amigos en las pandillas de chicos que roban para subsistir.

Con la parte de las ganancias que le respondió por la venta de golosinas, el mayor, que tiene trece años, compró algo de pan fresco. Su aroma llega hasta Durval, que tiene que contenerse. Esa comida es para los niños. En la cocina de leña, en la que los chicos ponen trozos de madera encontrados en la basura, la esposa de Durval está cocinando un hueso que compró con el dinero obtenido en la venta de las cosas que encontró en la basura. Tuvo suerte: algunas piezas de metal que vendió a unreobal h hueso enriquece el cazo, al que agrega un puñado de arqueado que encontró en el fondo de una bolsa que la semana anterior trajo del mercado. Hay cerca de un kilo, que tendrá que durar muchos días. Por eso cocina un puñado cada vez.

(Como se faz para sobreviver com un salário mínimoAlagoa)



### Canvi percentual en salari real 1980-1990



(manuf= indústria manufacturera, sal min= salari mínim)

## ACTIVITATS :

A continuació tens les dades de l'evolució del salari al Brasil entre 1980 i 1986:

Any 1980 .....	100
Any 1981 .....	103,34
Any 1982 .....	106,82
Any 1983 .....	91,53
Any 1984 .....	84,23
Any 1985 .....	86,86
Any 1986 .....	78,55

- Fes un gràfic de línies amb l'evolució dels salaris.
- A la vista del gràfic, quina et sembla que ha estat l'evolució dels salaris des del 1982?
- Compara el salari/hora del Brasil amb el d'altres països:

Noruega .....	17,58 \$ hora
Suïssa .....	17,06 \$ hora
Suècia .....	15,12 \$ hora
Dinamarca .....	14,49 \$ hora
EEUU .....	13,46 \$ hora
Brasil .....	1,49 \$ hora
Mèxic .....	1,37 \$ hora

- Quin comentari et suggereix aquesta comparació?